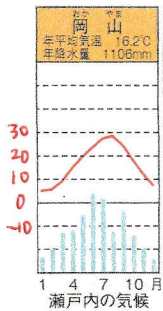


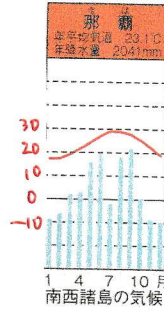
瀬戸内の気候



降水量が少ない
1年を通じて温暖

雨が少なくて気温も
そこそこ暖かめ。

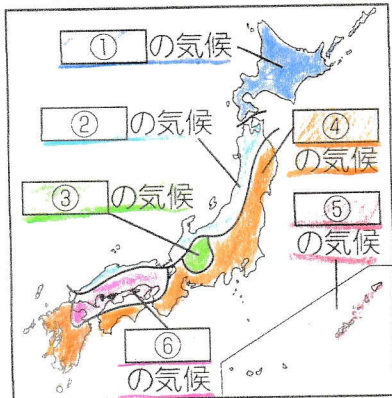
南西諸島の気候



1年中暖かい
台風により秋に雨が多い

気温の折れ線グラフが
ダントツ高い

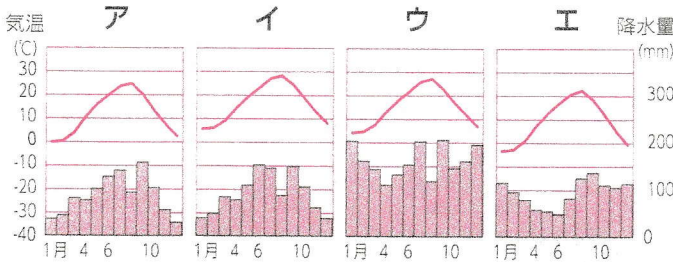
下の図の①～⑥にあてはまる気候名を書きなさい。



- ① (北海道)の気候
- ② (日本海側)の気候
- ③ (中央高地)の気候
- ④ (太平洋側)の気候
- ⑤ (南西諸島)の気候
- ⑥ (瀬戸内)の気候

下のア～エのグラフは、右の略地図中の4都市の気温と降水量の変化を表している。ア～エのうち、札幌市と鳥取市のものはどれか。それぞれ1つずつ選びなさい。

札幌市 [**エ**] 鳥取市 [**ウ**]



(平成27年版「理科年表」)



● 冬の気温が他より低い「エ」が北海道の気候。● 冬に降水量の多い「ウ」が日本海側の気候。● 「ア」は冬に0度以下だから中央高地の気候。● 「イ」は冬も暖かいから瀬戸内の気候。