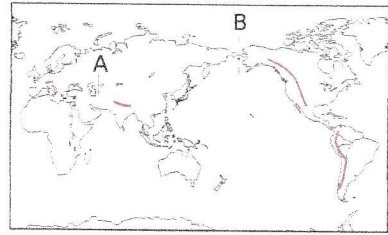


□ (1) 地図中のAの造山帯を何というか。
 [**アルプス・ヒマラヤ** 造山帯]

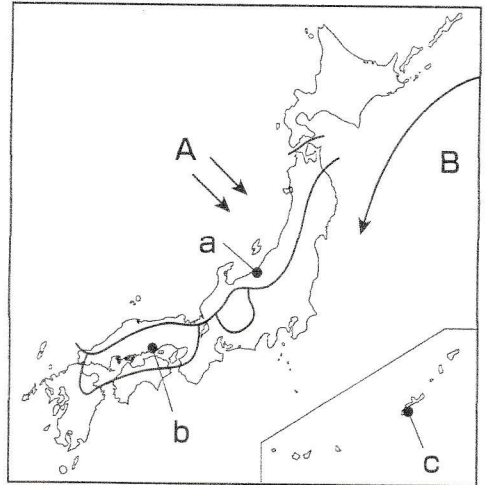
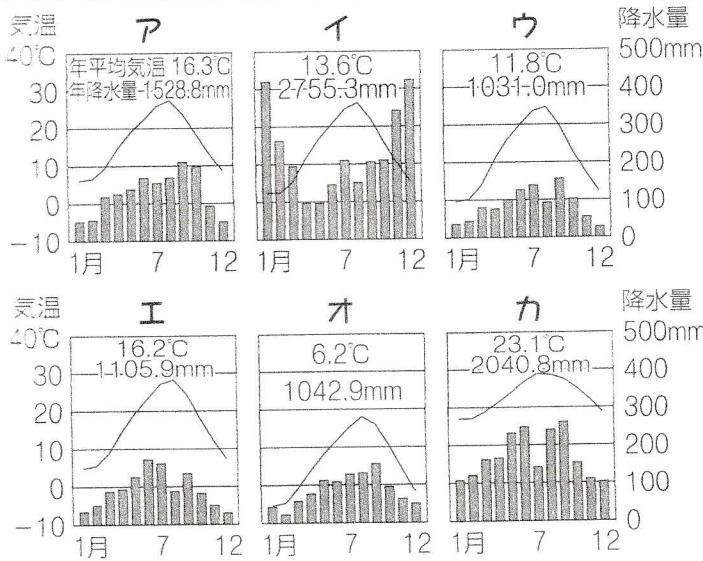
□ (2) 地図中のAとBの造山帯にふくまれる山脈を、次のア～カから2つずつ選びなさい。



- ア アルプス山脈 イ ウラル山脈 ウ アンデス山脈
 エ ヒマラヤ山脈 オ アパラチア山脈 カ ロッキー山脈

A [**ア**]・[**エ**] B [**ウ**]・[**カ**]

- ・本州と四国にはさまれた海の沿岸部に広がっている、一年を通して降水量が少ない日本の気候区分を何といいますか。 (**瀬戸内の気候**)
- ・本州の日本海側を中心に広がっている、冬の降水量が多い日本の気候区分を何といいますか。 (**日本海側の気候**)
- ・夏から秋にかけて発生し、接近する熱帯低気圧を何といいますか。 (**台風**)
- ・北海道以外の地域でおこる、6～7月頃に雨が降り続く時期を何といいますか。 (**梅雨**)



- ・aの都市の雨温図は、ア、イのどちらか (**イ**)
- ・bの都市の雨温図は、ウ、エのどちらか (**エ**)
- ・cの都市の雨温図は、オ、カのどちらか (**カ**)
- ・地図中にAで示した季節風が吹く季節は、夏と冬のどちらか。 (**冬**)
- ・地図中にBで示した寒流の上を吹く風が吹くことにより、東北地方の太平洋側で初夏に農作物が育ちにくくなる自然災害を何とよぶか。 (**冷害**)