
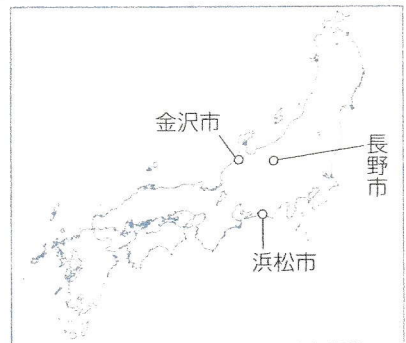
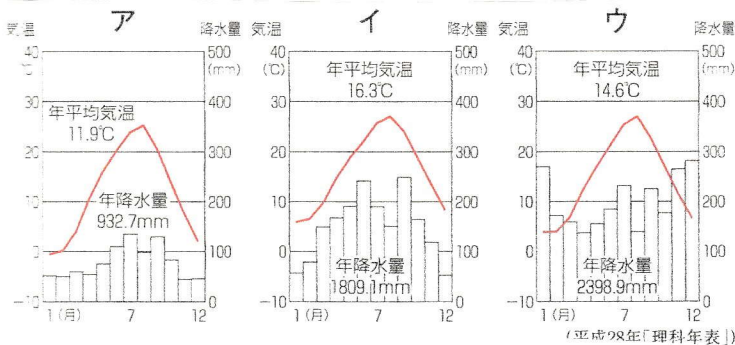


- 日本の川は大陸の川に比べて短く急流で (流域) 面積が小さい。
- 平野は海に面した平らな土地、(盆地) は山に囲まれた平らな土地である。
- 川が山間部から平地に出たところに土石がたまってできる地形を (扇状地) といい、河口部に土石がたまってできる地形を (三角州) という。
- 日本の大部分が属する気候帯は (温) 帯だが、北海道の気候は (亜寒 (冷)) 帯である。
- 火山の噴火にともなって、右の資料のような (火砕流) が発生することがある。
- 東北地方では夏にやませが来ると気温が上がらず、農作物に被害が出る (冷害) となることがある。



③ 次のア〜ウは、右の地図の金沢市、長野市、浜松市のいずれかの雨温図である。それぞれの都市の雨温図をア〜ウから一つずつ選び、記号を書きなさい。



金沢市 (ウ)

長野市 (ア)

浜松市 (イ)