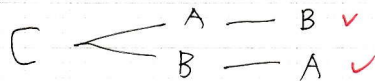
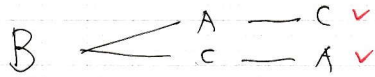
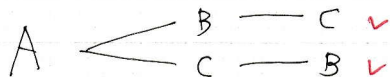


問題

アルファベットの A, B, C を, ACB のように重複なしに 1 個ずつすべて並べるとき, その並べ方をすべて書き出せ.



こたえ.

ABC.

ACB

BAC

BCA

CAB

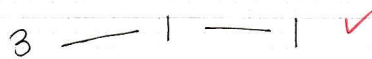
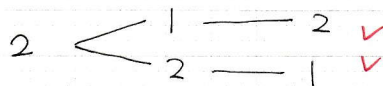
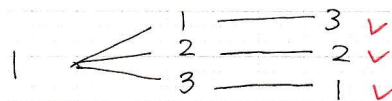
CBA.

問題

大中小の 3 個のさいころを投げる時, 次の場合は何通りあるか.

(1) 目の和が 5 になる場合.

大 ⊕ 中 ⊕ 小 = 5



こたえ 6 通り