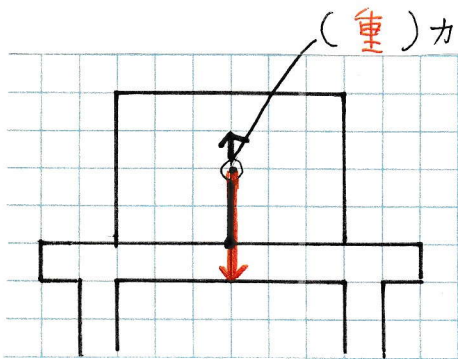
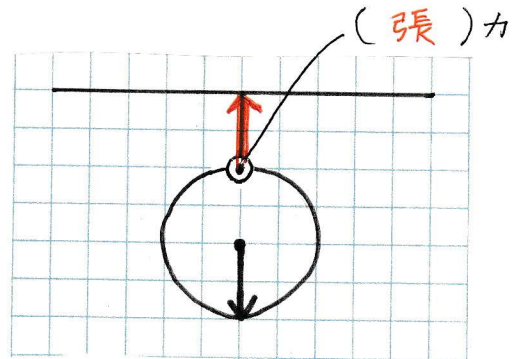


4. 次の物体は、すべて静止している。1目盛りを1Nとして ⊙ 点からもう一つの力の矢印を書きなさい。また、⊙ からの力の名前を ( ) に書きなさい。ただし質量100gの物体にはたらく重力を1Nとする。

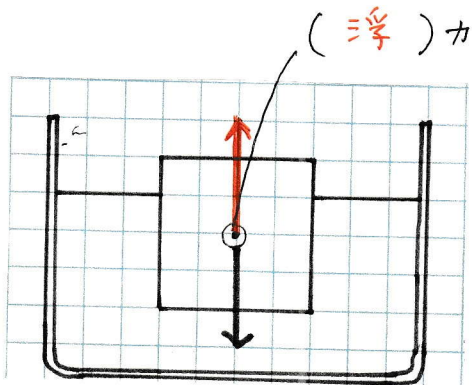
(1) 机に300gの物体がのっていて、それを机が支えている



(2) 天井から200gの物体が下がっていて、それを糸が支えている。



(3) 水に300gの物体が浮かんでいる。



(4) 鉄のかたまりを右の力で押すが、重カかない。

