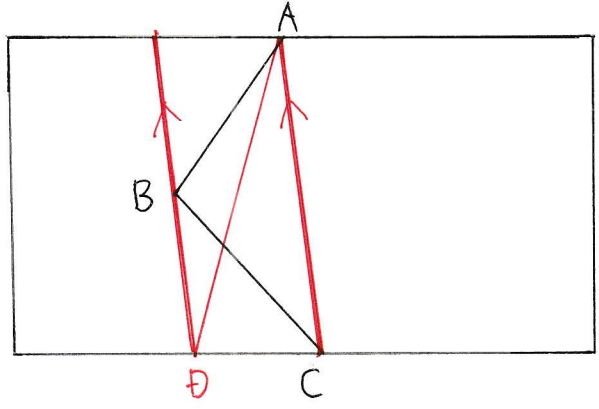
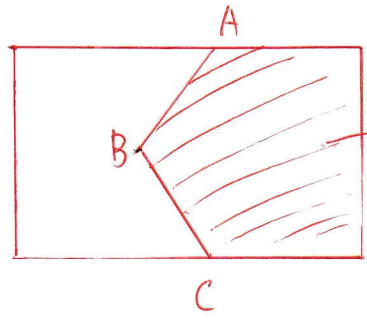


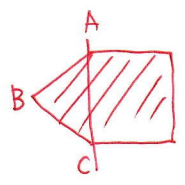
① 2つの面積を変えないような直線ADを作図しよう。



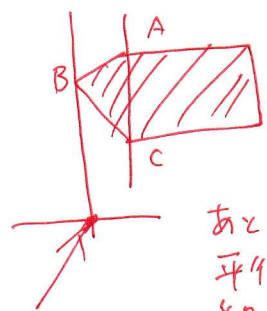
- ① AとCを結ぶ
- ② Bを通る平行な線を引く(マークも)
- ③ 書きたいのは直線ADなので、②で書いた線の下がDになる。
- ④ AとDを結ぶ



こっこの面積を2つに分けることを考える



じゃあACを結ぶことが思いつくはず



交点か点Dになるよ。

あとはその線に平行でBを通らせる線を引けばいい

じゃあADを糸引いたらできあがり