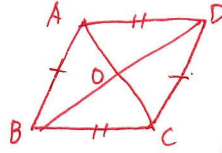
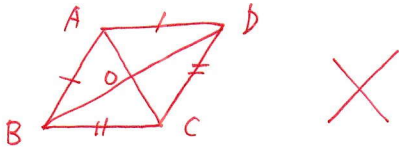


⑤ $AB = DC, AD = BC$



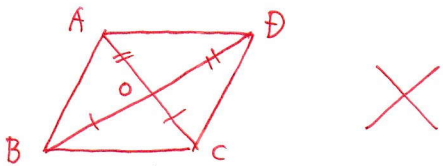
○
2組の対辺がそれぞれ等しいから ○

⑥ $AB = AD, BC = CD$



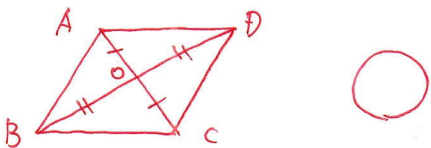
✗ 等しい辺が向かい合っていないから ✗

⑦ $OB = OC, OD = OA$



✗ 対角線だけじゃ、中点で交わっていないから ✗

⑧ $OA = OC, OB = OD$



○ 対角線で、中点で交わっているから ○