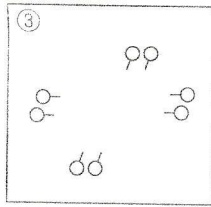
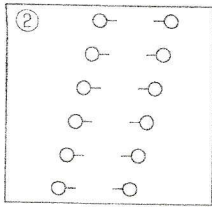
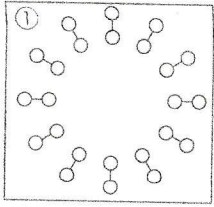


(7) 次の図のフォークダンスの基本的な隊形の名称を答えなさい。

○男子 ○女子

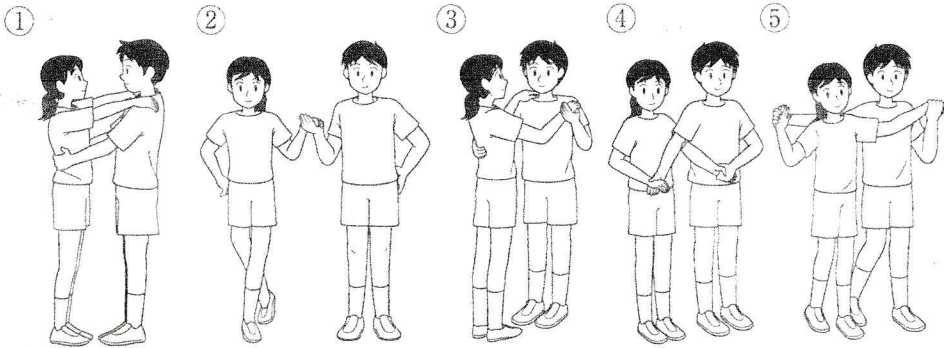


① (ダブルサークル)

② (対列)

③ (方形)

(8) 次の図のポジションの名称を、あとから選んで記号で答えなさい。



ア プロムナードポジション
 ウ クローズドポジション
 オ ショルダーウエストポジション

イ オープンポジション
 エ バルソビアナポジション

① (オ) ② (イ) ③ (ウ)

④ (ア) ⑤ (エ)