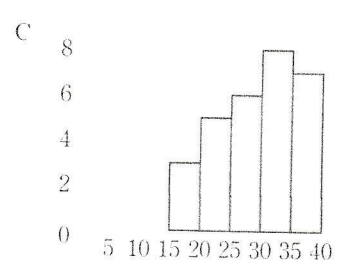
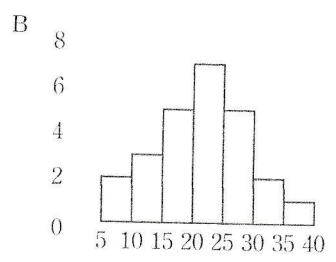
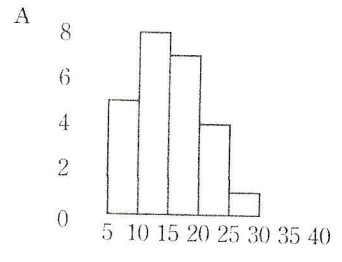


4 次のA~Cのヒストグラムについて 次の問いに 答えなさい。



(1) 範囲が いちばん大きいものはどれですか。

- A ... $30 - 5 = 25$
- B ... $40 - 5 = 35$
- C ... $40 - 15 = 25$

(B)

(2) 平均値が いちばん大きいものはどれですか。

山が、値の大きい右よりになっているCが
合計が大きくなり、平均値も大きくなるから。

(C)

(3) 平均値と中央値と最頻値がほぼ同じ値になるものはどれですか。

ほぼ左右対称のBのような場合、平均値、
中央値、最頻値はほぼ同じ値になります。

(B)