

⑦ 電気回路について、次の文が何を表すか、答えなさい。




(1) 電流の通り道 ... ( 導線 )

(2) 電流を送る部分 ... ( 電源 )

(3) 電流のはたらきで仕事をする部分 ... ( 負荷 )

(4) 電流を制御する部分 ... ( スイッチ )


⑧ 次の表の ( ) にあてはまる電池の名称と使われる製品を語群から選んで答えなさい。

			
乾電池	太陽電池	鉛蓄電池	名称
懐中電灯	ソーラーカー	自動車	使用例

鉛蓄電池、太陽電池、乾電池、  
自動車、懐中電灯、ソーラーカー

⑨ 下の図を見て ①、②のそれぞれの名称を答えなさい。

①



( 白熱電球 )

②



( 蛍光灯 )

( フラメント )  
という。