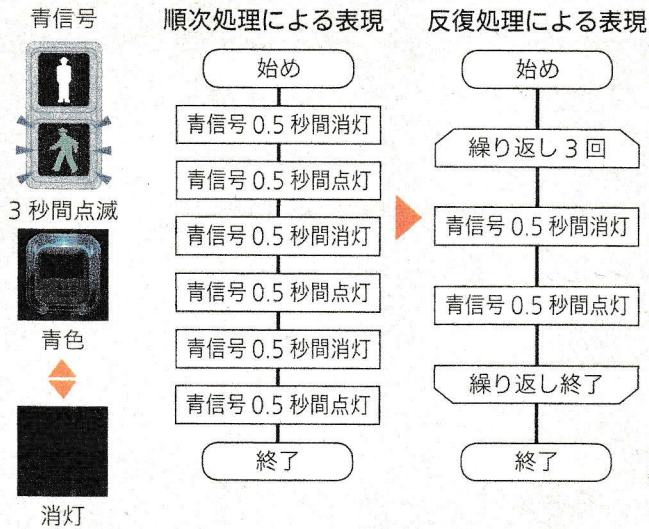


問 右のフローチャートの A 部分を サブルーチン化したマークを  
下から選んで記号を書こう。

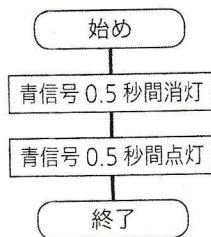
(ウ)



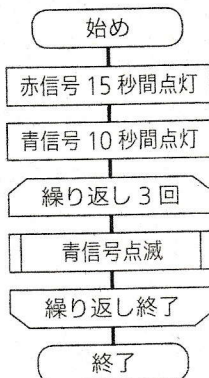
< プログラムの評価・修正の例 >



点滅信号の  
サブルーチン化<sup>\*1</sup>



信号が変わるときの  
一連のプログラムの例



反復処理や  
サブルーチン  
を使うと、処理が  
効率よくなるね。

