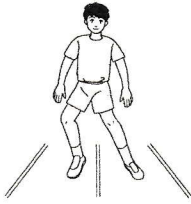


① 次の図の名称を答え、( )にあてはまる言葉も答えなさい。

A




( 反復横歩び )

A ... ( 中央 ) の線をまたいで立ち、「始め」で ( 右 ) の線を越えすか角虫れるかするようにサイドステップする。

同じようにして ( 中央 ) の線に戻って ( 左 ) にも同じ動作を行い、再び ( 中央 ) の線に戻る。

( 20 ) 秒間で線を何回通過したかを記録する。

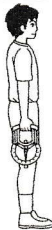
B



( ハンドボール投げ )

B ... 投球は直径 ( 2 ) m のサークルの中  
から行う。

C



( 握力 )

C ... 指針を ( 外 ) 向き ( 人差し ) 指の  
第2関節を ( 90 ) 度になるよう  
に握り、右手から計測りする。