

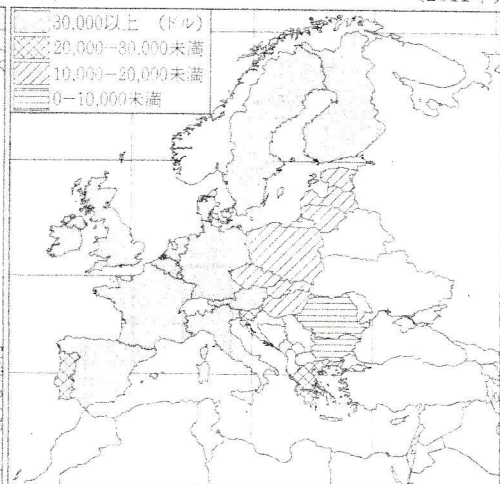
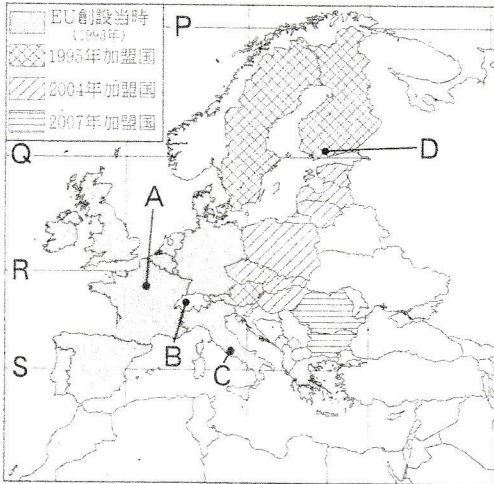
1. ヨーロッパに関する次の問いに答えなさい。

(1) 図1はEU加盟国の拡大のようす、図2はEU加盟国の1人あたり国民総所得、図3は図1中の都市A~Dのいずれかの気温と降水量を示している。図1~図3に関する次の問いに答えなさい。

図1

(2011年) 図2

(2011年)



『世界国勢図会』より作成

『世界国勢図会』より作成

① 図1中の緯線P~Sのうち、日本の東北地方を通る緯線を1つ選んで、その符号を書きなさい。

(S)

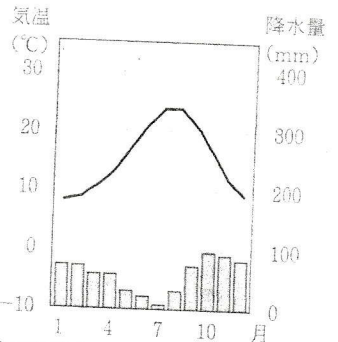
② 図3のグラフは図1中の都市A~Dのどの都市にあたるか、1つ選んで、その符号を書きなさい。

(C)

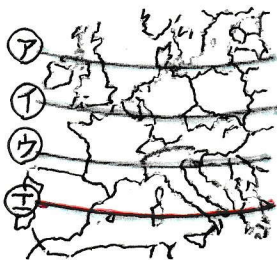
図3は、最も寒い月でも約8℃と比較的暖かく、夏に乾燥して冬に降水量があるので、地中海性気候で C となる。

とにか、夏に極端に雨の少ないのが地中海性気候だ。

図3



『理科年表 平成23年』より作成



① 秋田県の八郎潟を通る北緯40度は、スペインのマドリッド、イタリアの南部、ギリシャを通る。左の図では ⊕、上の図1では S にあたる。

ちなみに、北海道と同じ緯度は、フランス南部と同じ ⊕ である。