





II. 日本にある世界遺産について整理したカードに関するあとの問いに答えなさい。なお、カードA~Hは下線部にもとづいて、時代の古いものから順に並んでいる。

<p>カードA</p>  <p>この建物は、現存する世界最古の木造建築で、<u>飛鳥文化</u>を代表する多くの仏像や美術工芸品も残されている。</p>	<p>カードB</p>  <p>この建物は、<u>摂関政治</u>が最も栄えたころに建てられ、阿彌陀仏の世界をこの世に再現したとされている。</p>	<p>カードC</p>  <p><u>幕府の支援</u>や民衆の寄付などにより再建されたこの門は、宋から伝えられた雄大な建築様式が取り入れられている。</p>	<p>カードD</p>  <p><u>東山文化</u>を代表するこの建物の建築様式は、武家の住居に取り入れられ、こんにちの和風住宅のもととなっている。</p>
---	---	--	---

- カードAの建物を建てたといわれる人物に関係のあるものを次のア~エから1つ選んで、その符号を書きなさい。
  - ア 隋と対等の関係を築こうと使節を派遣した
  - イ 大化の改新とよばれる改革を推進した
  - ウ 大宝律令を制定し、律令国家が成立した
  - エ 坂上田村麻呂を東北に派遣した。

こたえ... (ア) カードAの法隆寺を建てたのは聖徳太子。  
 イは中大兄皇子や中臣鎌足  
 ウは文武天皇(天武天皇の孫)、エは桓武天皇

- カードBに関して次の問いに答えなさい。
  - この建物が建てられた時代の政治や社会のようすについて述べた文として適切なるものを次のア~エから1つ選んでその符号を書きなさい。